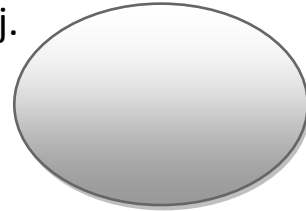


MATEMATIKA

4.ročník

1. Peter s Jurajom sa rozhodli, že budú hrať tenis. Peter má doma 6 tenisových loptičiek. Juraj ich má 2-krát menej. Koľko tenisových loptičiek majú spolu?
(Do tenisovej loptičky napíš odpoveď)



2. Oblak si sadol na správne vypočítanú úlohu. Ktoré číslo zakrýva ??

$$25 - 5 = 13 - \text{cloud}$$

a) 2

b) 4

c) 6

d) 7

e) 9

3. Čísla a znamienka. Vieš ich doplniť?

$13 + 20 =$

$- 20 = 50$

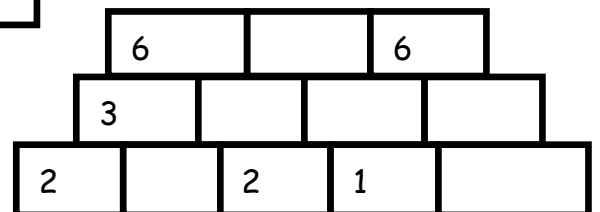
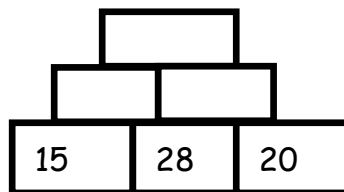
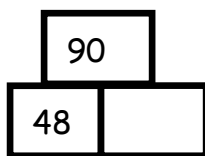
$53 - = 45$

$23 - 15 =$

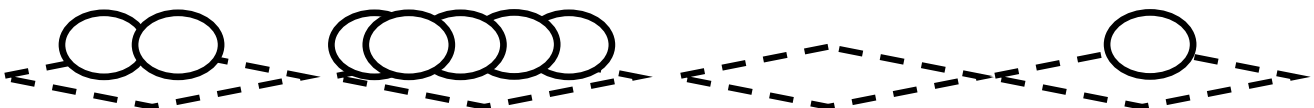
$22 \quad 10 = 32$

$31 \quad 22 = 9$

4. Dopln čísla tak, aby súčet dvoch čísel vedľa seba sa rovnal číslu nad nimi.



5. Na stole sú 4 tanieri a guľičky... Najmenej koľko guľičiek treba položiť z taniera na tanier, aby na každom tanieri bolo rovnako veľa guľičiek??



6.

Čo musí urobiť kráľ, keď chce spať?

I: $18-6=$

Ť: $4+9=$

A: $14-8=$

E: $8+8=$

Č: $18-9=$

R: $16-9=$

Z: $12-8=$

O: $4+14=$

I: $6+9=$

V: $16-8=$

4	6	8	7	12	16	13	18	9	15

7.

Koľko je autíčok na poličke, ak ich je tam 8-krát viac ako dní v týždni?

A 65

B 48

C 56

D 64

8. V krabici je šestina z 54 kociek. Koľko je to kociek?

.....

9. Ak číslo 31 delím číslom 4, zvyšok pri delení bude číslo.....

10. Premeň na centimetre:

4m 63 dm =

5 cm 60 mm =

700 dm =

330 mm =

4 dm 300 mm =

13 m =

11. Ak má obdĺžnik veľkosti strán 8 cm a 9 cm, jeho obvod je:

a) 34 cm

b) 17 cm

c) 72 cm

d) 43 cm