

# Matematika

# 1. ročník

1. Porovnaj čísla  $\gt$ ,  $\lt$ ,  $=$



10 9  
2 4

5 8  
1 1

2 7  
8 7

3 3  
9 6

2. Spočítaj kvietky a porovnaj



3. Vypočítaj

$4 + 2 =$

$8 - 5 =$

$8 - 4 =$


$2 + 9 =$

$10 - 9 =$

$7 + 3 =$

4. Aké zvieratko nasleduje ?

Zakrúžkuj.



## 5. Vypočítaj

Janko má 5 jablák . Miška má 7 jahôd a Mirka má 6 hrušiek. Koľko majú spolu?

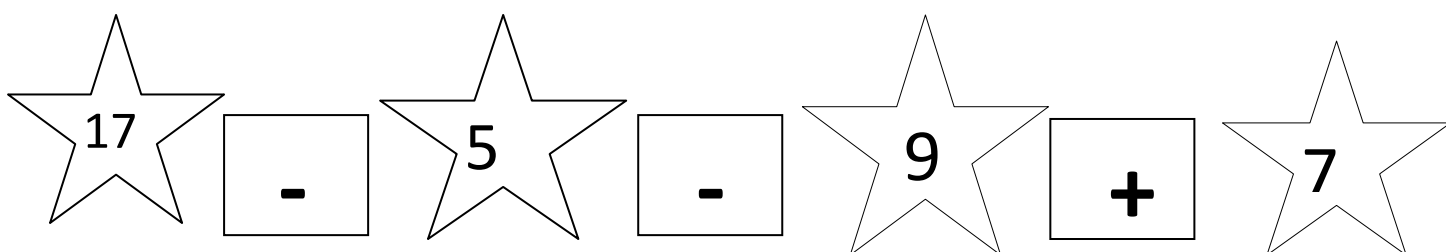
a) 12

b) 20

c) 18

d) 11

## 6. Vypočítaj



7. Na ktorom domine je najmenej bodiek ?

