

Úlohy pre 2. ročník

1. Jedna zmrzlina stojí 1€. Koľko zmrzlín si môžeme kúpiť za 9€.

- A) 2 B) 8 C) 18 D) 9



2. Vypočítaj:

$2 + 2 =$

$10 + 5 =$

$1 + 18 =$

$12 + 4 =$

$8 + 2 =$

$19 + 1 =$

$8 + 3 =$

$6 + 0 =$

3. Odpočítaj:

$2 - 1 =$

$15 - 2 =$

$17 - 13 =$

$1 - 0 =$

$20 - 5 =$

$18 - 8 =$

$4 - 0 =$

$16 - 15 =$

4. Doplni do prázdnych štvorčekov čísla ktoré tam chýbajú.

$\square + 7 = 17$

$- 2 : \square$

$15 + \square = 20$


$17 - \square = 2$

$\square + 4 = 8$

$\square - \square = 0$

5. Vyfarbi podľa výsledku:

$1 + 4$



$7 + 2$




$16 - 9$



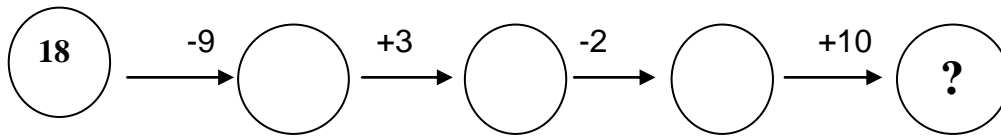
$0 + 10$

6. Veľa zostalo




7. Aké čísla chýbajú v kruhoch?






8. Jakub mal 10 autíček. Mama mu kúpila ešte 3 autíčka. Koľko má Jakub teraz autíček?



9. Ktoré číslo treba doplniť do tmavého obláčika, aby obidva naznačené výpočty boli správne?



10. Motýľ si sadol na správne vypočítanú úlohu. Ktoré číslo zakrýva?

$$20 - 10 = 10 +$$

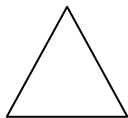


11. Kúzelník vyťahuje predmety z klobúka v tom istom poradí ?

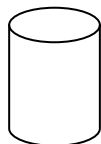


Aký predmet bude nasledovať?

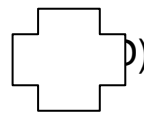
A)



B)



C)



D)

